

به نام بهترین دوستم خدا

ارزشیابی آبان ماه ۱۴۰۳
فصل ۲ ریاضی پایه سوم

نام و نام خانوادگی من :
شماره کلاسی :

۱. همه عددهای سه رقمی که رقم صدگان آنها ۴ یا ۶، رقم دهگان ۵ یا ۲ و رقم یکان ۱ باشد را بنویسید.

۲. به چند حالت می توانیم با سکه های ۱۰ و ۱۰۰ ریالی؛ ۳۰۰ ریالی درست کنیم؟

۳. الگوهای عددی زیر را ادامه دهید.

۱۰۰۰ _ ۱۱۰۰ _ ۱۲۰۰ _ _ _ _ _

۱۰۰۰ _ ۲۰۰۰ _ _ _ _ _

۵. حاصل جمع عددهای زیر را بنویسید.

$$۵۰۰۰ + ۲۰۰ + ۱۰۰ + ۴۰ =$$

$$۱۰۰ + ۱۰۰ + ۳۰۰۰ + ۵۰ =$$

۴. باز شده عددهای زیر را بنویسید.

$$۵۶۷۰ =$$

$$۴۴۰۴ =$$

$$۲۸۰۰ =$$

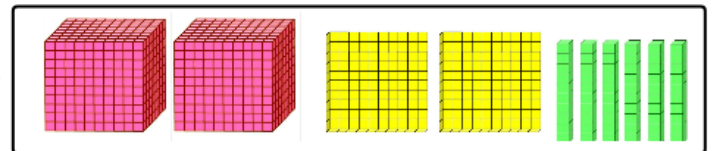
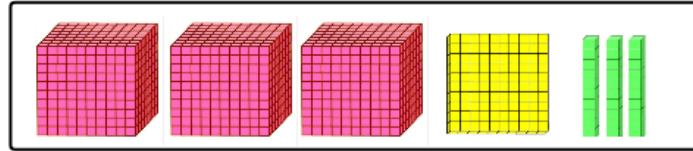
۶. جاهای خالی را با دقت فراوان کامل کنید.

۹۰۰ ریال = تومان .
۶۸۰۰ ریال = تومان .
۲۰ ریال = تومان .



۷۰۰ تومان = ریال .
۵ تومان = ریال .
۸۶۰ تومان = ریال .

۷. مقایسه کنید و علامت مناسب بگذارید.



۸. یک دلار کشوری به اندازه‌ی ۱۰۰۰ تومان ارزش دارد. ۵ دلار این کشور ارزش بیشتری دارد یا ۵۸۷۰؟

۹. عددهای زیر را با حذف رقم یکان و دهگان بنویسید:


$1356 =$

$7652 =$

$9438 =$

$2324 =$

۱۰. برای اینکه باران بیارد باید عددهای توی ابر را به رقم در قطره های باران بنویسید.



۱۱. عدد داده شده به کدام مستطیل نزدیک تر است؟ جاهای خالی را با عدد مناسب پر کنید

$1200 \quad 1256 \quad \square$

$\square \quad 3260 \quad 4000$

۱۲. با توجه به واحد داده شده؛ عدد مناسب بنویسید.

۷۰۰۰ گرم = کیلوگرم.

۵ کیلوگرم = گرم.

۸ کیلومتر چند متر است؟

۱۴۰۰ متر = کیلومتر و متر.

۳۲۰ سانتی متر یعنی متر و سانتی متر.

..... سانتی متر یعنی ۴ متر و ۶۰ سانتی متر.